



**TÜRKİYE ULUSAL AJANSI**  
**PERSONEL ALIMI YAZILI GİRİŞ SINAVI**

**BÜRO GÖREVLİSİ**

**A**

PARAF

**ADAYIN**

ADI : .....  
SOYADI : .....  
T.C. KİMLİK NUMARASI : .....  
SINAV SALON NO : ..... SIRA: .....  
İMZA : .....

\*Yukarıdaki Bilgileri Doldurmayı Unutmayınız.

**Genel Açıklama**

1. Bu kitapçıkta **100 (yüz) soru vardır**. Cevaplamaya istediğiniz sorudan başlayabilirsiniz.
2. Sınav süresi **120 (yüz yirmi) dakikadır**.
3. İşaretlemelerinizi yumuşak uçlu kurşun kalem ile, işaretleme yapacağınız alanı taşırmadan yapınız.
4. Değiştirmek istediğiniz bir cevabı, cevap kağıdını yıpratmadan siliniz.
5. Değerlendirme optik okuyucu ile yapılacağı için cevap kağıdını katlamayınız, buruşturmayınız ve gereksiz işaret koymayınız.
6. Testte her soru için tek bir doğru cevap seçeneği işaretlenecektir. Birden fazla işaretleme yapmanız durumunda o soruya verdiğiniz cevap yanlış sayılacaktır.
7. Testte yanlış cevaplar, doğru cevaplardan düşülmeyecektir. Bu yüzden size en doğru gelen cevabı işaretlemek yararınıza olabilir.
8. Soru kitapçığındaki boş yerleri müsvedde olarak kullanabilirsiniz.
9. **Kitapçık türünü kodlamayı unutmayınız**. Kodlamadığınız takdirde sınavınız **geçersiz** sayılacaktır.

Bu testin her hakkı saklıdır. Hangi amaçla olursa olsun, testlerin tamamının veya bir kısmının Gazi Üniversitesi Ölçme ve Değerlendirme Uygulama ve Araştırma Merkezi'nin yazılı izni olmadan kopya edilmesi, fotoğraflarının çekilmesi, herhangi bir yolla çoğaltılması, yayımlanması ya da kullanılması yasaktır. Bu yasağa uymayanlar, gerekli cezai sorumluluğu ve testlerin hazırlanmasındaki mali külfeti peşinen kabullenmiş sayılır.



## A

1. 26 Ağustos 1071 günü gerçekleşen Malazgirt Savaşı'nda Sultan Alparslan'a bağlı Türk ordusu Bizans ordusuna karşı muazzam bir zafer kazanmıştır. Bu zaferden sonra Selçuklu ordusunda görev yapan komutanlar tarafından Anadolu'da beylikler kurulmuş ve böylece Anadolu'nun Türkleşmesi süreci başlamıştır.

**Aşağıdakilerden hangisi 1071 Malazgirt Savaşı'nın ardından Anadolu'da kurulan Türk beylikleri arasında gösterilemez?**

- A) Danişmendoğulları Beyliği  
B) Saltukoğulları Beyliği  
C) Pervaneoğulları Beyliği  
D) Mengücekoğulları Beyliği  
E) Artukoğulları Beyliği

2. Osmanlı Devleti'nde idari bürokraside görev alan kesimler seyfiye, ilmiye ve kalemîye olmak üzere üç ana gruba ayrılmıştır. Kabaca bir tanım yapıldığında seyfiye sınıfının askerlerden, ilmiye sınıfının ilim/hukuk adamlarından, kalemîye sınıfının ise idari ve mali bürokratlardan oluştuğu görülmektedir.

**Aşağıdaki devlet görevlilerinden hangisi seyfiye sınıfı mensupları arasında gösterilemez?**

- A) Sancakbeyi  
B) Kaptan-ı Derya  
C) Yeniçeri Ağası  
D) Reisülküttab  
E) Subaşı

3. İlk olarak Kırım Savaşı sırasında başvuru- lan dış borç alma yöntemi kısa sürede Osmanlı ekonomisinin döndürülemez bir borç sarmalı içine girmesine neden olmuştur. Devlet 20 Aralık 1881 günü ilan edilen Muharrem Kararnamesi ile borçları ödeyemediğini ilan etmiş ve devletin iflası neticesinde alacaklı devletlerin borçları için yeni bir idare kurulmuştur.

**Avrupalı devletlerin borçlarını tahsil edebilmesi için kurulan idare aşağıdakilerden hangisidir?**

- A) Tekalif-i Milliye  
B) Düyun-ı Umumiye  
C) Kanun-ı Esasi  
D) Teşkilat-ı Umumiye  
E) Mülkiye-i İktisadiye

4. 1919 yılı Eylül ayında gerçekleştirilen Sivas Kongresi'nin ardından çıkartılmaya başlanan ve Milli Mücadele'nin sesi olarak Türk Milletinin haklı davasının temsilciliği gibi önemli bir misyonu üstlenen gazetenin ismi aşağıdakilerden hangisidir?

- A) İrade-i Milliye  
B) Tasvir-i Efkar  
C) Takvim-i Vekayi  
D) Cumhuriyet  
E) Milliyet

## A

5. Araplarla Çinliler arasında 751 yılında yaşanan bu savaş Türklerin tarihini derinden etkilemiştir. Öyle ki, bu savaştan sonra Türkler arasında filizlenen İslam inancı yaklaşık iki asır sonra ilk Türk-İslam devletlerinin doğuşuna neden olmuş ve dünya tarihinde Türkler artık Müslüman kimliği ile de yer almaya başlamıştır.

**Yukarıda ifade edilen ve Türklerin İslamiyet'i kabul etmesinde rol oynayan savaş aşağıdakilerden hangisidir?**

- A) Mercedabık Savaşı
- B) Maraton Savaşı
- C) Zatüsavari Savaşı
- D) Talas Savaşı**
- E) Hittin Savaşı

6. Karahanlılar zamanının önde gelen devlet adamlarından biri olan Yusuf Has Hacib tarafından 1069 yılında kaleme alınan bu eser, dönemin hükümdarı Süleyman Arslan Han'a ithaf edilmiştir. 6645 beyitten oluşan bu eser siyasetname türündedir.

**Yukarıda temel özellikleri sıralanan eser aşağıdakilerden hangisidir?**

- A) Kutadgu Bilig**
- B) Divan-ı Lügai't-Türk
- C) Divan-ı Hikmet
- D) Atabetü'l-Hakayık
- E) Kanun-ı Mesudi

7.

- I. En eski Türk destanlarından biridir.
- II. Kırgızların milli destanı olarak kabul edilmektedir.
- III. Türk mitolojisinden ve bozkır kültüründen derin izler barındırmaktadır.

**Yukarıda temel özellikleri sıralanan edebi eser aşağıdakilerden hangisidir?**

- A) Alper Tunga Destanı
- B) Manas Destanı**
- C) Ergenekon Destanı
- D) Türeyiş Destanı
- E) Göç Destanı

8. 1618 - 1622 yılları arasında Osmanlı tahtının sahibi olan, gerçekleştirdiği Hotin seferi dönüşünde orduda ıslahat yapmayı düşünen ancak çıkan Yeniçeri isyanı neticesinde tahtını ve hayatını kaybeden Osmanlı padişahı aşağıdakilerden hangisidir?

- A) II. Mehmed
- B) I. Ahmed
- C) II. Osman**
- D) III. Mustafa
- E) II. Mahmud

9. Aşağıdakilerden hangisi Osmanlı donanmasında görev yapan görevliler arasında yer alır?

- A) Levend**
- B) Derbend
- C) Voynuk
- D) Lağımçı
- E) Cebeci

## A

10. Aşağıdakilerden hangisi 1877-1878 Osmanlı-Rus Savaşı sonrasında bağımsızlık ya da özerklik elde eden devletler arasında sayılamaz?

- A) Arnavutluk
- B) Sırbistan
- C) Karadağ
- D) Romanya
- E) Bulgaristan

11. Aşağıdakilerden hangisi I. Dünya Savaşı sırasında Osmanlı Devleti'nin taarruz halinde bulunduğu cepheler arasındadır?

- A) Çanakkale Cephesi
- B) Galiçya Cephesi
- C) Irak Cephesi
- D) Kafkas Cephesi
- E) Yemen Cephesi

12. İzmir'in işgali Anadolu'nun her köşesinde büyük bir tepkiye neden olmuştur. Denizli'deki milli uyanışın sembol ismi ise şehrin müftüsüdür. Denizli Müftüsü Yunan işgal ve istilasına karşı protesto mitingi tertip etmiş, "Düşmana karşı koymak farzı ayndır" diyerek milli mücadeleye yanlısı fetva vermiştir.

Faaliyetleri yukarıda ana hatları ile anlatılan, işgal yıllarında Denizli müftüsü olarak görev yapan Milli Mücadele dönemi kahramanı kimdir?

- A) İsmail Hakkı Efendi
- B) Şahin Bey
- C) Bekir Sami Bey
- D) Hacim Muhittin Efendi
- E) Ahmet Hulusi Efendi

13. Aşağıdaki gelişmelerden hangisi Atatürk dönemi Türkiye-Fransa ilişkileri başlığı altında değerlendirilemez?

- A) Bozkurt-Lotus davası
- B) Etabli meselesi
- C) Osmanlı borçları meselesi
- D) Adana-Mersin demiryolu meselesi
- E) Misyoner yabancı okulları meselesi

14. 1923-1938 yılları arasında Türkiye Cumhuriyeti'nin ekonomik alanda gerçekleştirdiği inkılaplar kronolojik olarak sıralandığında aşağıdakilerden hangisi en son gerçekleştirilmiştir?

- A) Türkiye İş Bankası'nın kurulması
- B) Teşvik-i Sanayi Kanunu'nun kabulü
- C) I. Beş Yıllık Kalkınma Planı'nın hazırlanması
- D) Kabotaj Kanunu'nun kabulü
- E) İzmir İktisat Kongresi'nin düzenlenmesi

15. İzmir ve çevresinde kara ile denizin farklı ısınmasına bağlı olarak oluşan yerel rüzgarlara verilen ad aşağıdakilerden hangisidir?

- A) İmbat
- B) Mistral
- C) Lodos
- D) Poyraz
- E) Samyeli

## A

16. Dünyanın şeklinden dolayı güneşin doğuş ve batış saatleri ülkelerin bulunduğu konuma göre farklılık gösterir. Böylece daha doğuda yer alan ülkelerde güneş daha erken doğar ve daha erken batar.

**Buna göre aşağıdaki ülkelerin hangisinde güneş daha erken doğup daha erken batar?**

- A) Arjantin
- B) Bulgaristan
- C) Filipinler
- D) Portekiz
- E) Türkiye

17. Aşağıdaki alanlardan hangisi maden kömürü yatağına sahiptir?

- A) Batman çevresi
- B) Kütahya çevresi
- C) Sivas çevresi
- D) Bursa çevresi
- E) Zonguldak çevresi

18. Türkiye'nin komşuları ile olan bazı sınırları akarsulardan geçmektedir. Bu duruma örnek teşkil eden ve Türkiye ile Ermenistan arasındaki sınırı oluşturan akarsu aşağıdakilerden hangisidir?

- A) Aras
- B) Çoruh
- C) Dicle
- D) Harşit
- E) Meriç

19. Türkiye bor minerali rezervi bakımından dünyada ilk sırada yer alır. Aşağıdakilerden hangisi Türkiye'deki bu mineralin rezervinin yaygın olarak bulunduğu alanlardan biridir?

- A) Elbistan
- B) Emet
- C) Haymana
- D) Küre
- E) Murgul

20. Dünyanın akciğerleri olarak adlandırılan Amazon ormanları hangi ülke sınırları içerisinde yer almaktadır?

- A) Meksika
- B) Peru
- C) Brezilya
- D) Venezuela
- E) Şili

21. Dünya üzerinde bazı ülkeler tek bir adadan bazı ülkeler ise çok sayıda adadan oluşmaktadır.

**Buna göre, aşağıdakilerden hangisi çok sayıda adadan oluşan bir ülkedir?**

- A) Estonya
- B) Mozambik
- C) Lesotho
- D) Endonezya
- E) Katar

22. Başlıca şehirleri Sdney, Canberra ve Melbourne olan ülke aşağıdakilerden hangisidir?

- A) Avustralya
- B) Yeni Zelanda
- C) Endonezya
- D) Malezya
- E) Sri Lanka

## A

23. Kıtalar bazen büyük bir deniz veya okyanus bazen de büyük bir sıradağ ile birbirinden ayrılmaktadır. Avrupa ile Asya kıtaları arasındaki sınırı büyük bir dağ silsilesi oluşturur.

**Aşağıdakilerden hangisi bu dağ silsilesinin adıdır?**

- A) Alp dağları
- B) And dağları
- C) Appalach dağları
- D) Himalaya dağları
- E) Ural dağları

24. Türkiye'nin komşuları ile olan bazı sınırları akarsulardan geçmektedir. Bu duruma örnek teşkil eden ve Türkiye ile Yunanistan arasındaki sınırı oluşturan akarsu aşağıdakilerden hangisidir?

- A) Aras
- B) Asi
- C) Çoruh
- D) Meriç
- E) Tuna

25. Türkiye'de özellikle 1980'lerden sonra kırsal kesimden şehirlere doğru çok çeşitli nedenlerle göç yapılmaktadır. Ülkemizde yoğun olarak göç alan illerden biri de Antalya'dır.

**Buna göre, Antalya'nın göç almasında etkili olan birincil neden aşağıdakilerden hangisidir?**

- A) Turizm
- B) Ticaret
- C) Sanayi
- D) Ulaşım
- E) Tarım

26. Dünya üzerinde akarsuların bulunduğu bölgeler hem suyun hem de verimli tarım alanlarının varlığına bağlı olarak geçmişten beri yerleşme ve uygarlık açısından önemli alanlar olmuştur. Bu alanlardan biri de Mezopotamya olarak adlandırılan alandır.

**Buna göre, Mezopotamya olarak adlandırılan bölge aşağıdaki akarsuların hangileri arasında yer alır?**

- A) Çoruh ve Aras
- B) Fırat ve Dicle
- C) Harşit ve Kızılırmak
- D) Seyhan ve Ceyhan
- E) Sakarya ve Filyos

27. Aşağıdakilerden hangisi mevzuatların yayınlandığı kaynaktır?

- A) Resmî Gazete
- B) Anayasa Metni
- C) Devlet Arşivi
- D) İçtihatlar
- E) Kitaplar

28. Aşağıdakilerden hangisi genel ve yerel seçimlerde oy kullanmaları yasak olan kişilerden biri değildir?

- A) Askeri öğrenciler
- B) 18 yaşın altında olanlar
- C) Okuma yazma bilmeyenler
- D) Silâh altında bulunan erler, onbaşılar ve kıta çavuşları
- E) Ceza infaz kurumlarında hükümlü olarak bulunanlar

## A

29. Aşağıdakilerden hangisi oy hakkına sahip olabilmenin birinci koşuludur?

- A) Vatandaş olmak
- B) Siyasi hakka sahip olmak
- C) Tutuklu olmamak
- D) En az ilkokul mezunu olmak
- E) Bir grubun üyesi olmak

30. Osmanlı - Türk Anayasal gelişmelerinin aşağıdakilerden hangisi ile başladığı kabul edilmektedir?

- A) 1789 Fransız İhtilali
- B) 1808 Sened-i İttifak
- C) 1839 Gülhane-i Hattı Hümayun
- D) 1856 Islahat Fermanı
- E) 1876 Kanuni Esasi

31. 2018 yılında yürürlüğe giren anayasa değişikliğine göre Türkiye Büyük Millet Meclisi'nin seçimleri kaç yılda bir yapılır?

- A) 3
- B) 4
- C) 5
- D) 6
- E) 7

32. 2018 yılında yürürlüğe giren anayasa değişikliğiyle Türkiye Büyük Millet Meclisi kaç milletvekilinden oluşmaktadır?

- A) 450
- B) 500
- C) 550
- D) 575
- E) 600

33. Aşağıdakilerden hangisi devlet memurlarının mal bildirimine konu teşkil etmez?

- A) Taşınır lar
- B) Seyahatler
- C) Alacaklar
- D) Gelirler
- E) Borçlar

34. Aşağıdakilerden hangisi 657 sayılı Devlet Memurları Kanunu'nda yer alan izin türlerinden biri değildir?

- A) Aylıksız izin
- B) Yıllık izin
- C) Mazeret izni
- D) Hastalık izni
- E) Araştırma izni

35. Aşağıdakilerden hangisi 657 sayılı Devlet Memurları Kanunu'na göre devlet memurlarına verilecek disiplin cezalarından biri değildir?

- A) Kınama cezası
- B) Aylıktan kesme cezası
- C) Uyarma cezası
- D) Para Cezası
- E) Kademe ilerlemesinin durdurulması cezası

36. Aşağıdakilerden hangisi pozitif hukuk metinlerinden biri değildir?

- A) Kanun
- B) Tüzük
- C) Yönetmelik
- D) Genelge
- E) İlke



## A

37. Türkiye’de 2010’da referandumla kabul edilen anayasa paketinde “bireyin anayasada güvence altına alınan temel haklarının anayasal veya yasal düzenlemelerle öngörülen usul ve şekille korunmasını” ifade eden bireysel başvuru hakkı hukuk sistemimizde kabul edilmiştir.

**Aşağıdakilerin hangisi gerçekleştiğinde Anayasa mahkemesine bireysel başvuru yapılabilir?**

- A) İç hukuk yolunun sonuna kadar takip edilmiş olması
- B) Kamusal tüzel kişi statüsüne sahip olunması
- C) İlk kademe mahkemede karar verilmiş olması
- D) Avrupa İnsan Hakları Mahkemesine başvuru yapılmış olması
- E) İlk başvurunun Anayasa mahkemesine yapılmış olması

38. Aşağıdakilerden hangisi anayasada kişinin hakları ve ödevleri arasında yer almaktadır?

- A) Çalışma hakkı
- B) Dilekçe hakkı
- C) İspat hakkı
- D) Kamu hizmetlerine girme hakkı
- E) Eğitim ve öğrenim hakkı

39. Cumhurbaşkanlığın 21 Nisan 2021 tarih ve 73 numaralı kararnamesi ile oluşturulan Çalışma ve Sosyal Güvenlik Bakanlığına aşağıdakilerden isimlerden hangisi atanmıştır?

- A) Vedat Bilgin
- B) Mehmet Muş
- C) Derya Yanık
- D) Ruhsar Pekcan
- E) Lütfi Elvan

40. 31 Aralık 2020 tarihi itibariyle Avrupa Birliği’nden ayrılan ülke aşağıdakilerden hangisidir?

- A) Belçika
- B) Hırvatistan
- C) İngiltere
- D) İspanya
- E) İtalya

41. Dünyada uluslararası saat hesaplamalarında bir kutuptan diğer kutba çizildiği varsayılan meridyen yayları kullanılır.

**Bu hesaplamada başlangıç olarak kabul edilen 0° meridyeni Greenwich kasabası aşağıdaki ülkelerin hangisinden geçmektedir?**

- A) Almanya
- B) Brezilya
- C) Finlandiya
- D) İngiltere
- E) Japonya

42. Ermenistan’ın işgali altında olan ve 2020 yılında büyük bir zaferle geri alınan Dağlık Karabağ aşağıdaki ülkelerden hangisine aittir?

- A) Azerbaycan
- B) Gürcistan
- C) Kazakistan
- D) Türkmenistan
- E) Tacikistan

43. Aşağıdaki ülkelerden hangisi BM’nin 5 daimi üyesinden biri değildir?

- A) ABD
- B) Çin
- C) Fransa
- D) İsveç
- E) Rusya

## A

44. 2019 yılı sonundan itibaren tüm dünyayı etkisi altına alan Covid-19 salgınının **ilk olarak ortaya çıktığı şehir ve ülke aşağıdakilerden hangisidir?**

- A) Dakka - Bangladeş
- B) Wuhan - Çin**
- C) Kandehar - Afganistan
- D) Lahor - Pakistan
- E) Yeni Delhi - Hindistan

45. UNESCO tarafından 1987 yılında Dünya mirası listesine eklenen ve üzerinde **Kommagene Krallığına ait heykellerin bulunduğu dağ aşağıdakilerden hangisidir?**

- A) Süphan dağı
- B) Tendürek dağı
- C) Nemrut dağı**
- D) Ağrı dağı
- E) Erciyes dağı

46. Türkiye'deki pek çok tarihi kalıntı insanlık tarihini aydınlatan öneme sahiptir. Bunlardan biri olan ve tarihin sıfır noktası olarak kabul edilen Göbeklitepe aşağıdaki illerden hangisinin sınırları içerisinde yer alır?

- A) Diyarbakır
- B) Konya
- C) Malatya
- D) Mardin
- E) Şanlıurfa**

47. Dünyada Covid-19 salgınına yönelik aşı geliştirme çalışması yapılmıştır. Bu kapsamda Almanya'da yaşayan iki Türk bilim insanı da bir aşı geliştirmiştir.

**Aşağıdakilerden hangisi Covid-19 aşısı geliştiren Türk bilim insanlarından biridir?**

- A) Uğur Şahin**
- B) Mehmet Öz
- C) Aziz Sancar
- D) Rahmi Öklü
- E) Mehmet Toner

48. 29 Nisan 2021'de uzaya fırlatılan ancak daha sonra kontrolden çıkan Long March 5B tipi roket aşağıdaki ülkelerin hangisine ait uzay istasyonu modülünü taşımaktaydı?

- A) Japonya
- B) Yeni Zelanda
- C) Çin**
- D) Rusya
- E) Hindistan

49. 16 Şubat 2021'de hayatını kaybeden İnsan İnsana, İçimizdeki Çocuk, Savaşçı ve Hayat öyküsünü anlatan İnsanı Ararken Damdan Düşen Psikolog gibi kitapları olan Türk psikolog, yazar ve bilim insanı aşağıdakilerden hangisidir?

- A) Doğan Cüceloğlu**
- B) Suna Tanaltay
- C) Üstün Dökmen
- D) Acar Baltaş
- E) Yıldırım Güneri

## A

50. Son yıllarda ülkemizde içme ve kullanma suyu temin etme yanında sulama, elektrik elde etme ve taşkın önleme gibi amaçlarla yapılan baraj sayısı çok hızlı bir şekilde artmıştır.

**Bunlardan biri olan Deriner barajı aşağıdaki akarsuların hangisi üzerinde inşa edilmiştir?**

- A) Aras
- B) Çoruh**
- C) Fırat
- D) Dicle
- E) Kızılırmak

51. Sağlıklı beslenmek pek de kolay değil aslında( ) Her gün protein( ) yağ( ) karbonhidrat almak gerekiyor( ) Bunları alırken de oranlarına dikkat etmek gerekiyor( )

**Yukarıdaki parçada parantezle gösterilen yerlere aşağıdaki noktalama işaretlerinden sırayla hangisi getirilmelidir?**

- A) (.) (,) (.) (.) (.)**
- B) (?) (,) (.) (.) (.)
- C) (!) (;) (,) (.) (.)
- D) (.) (;) (;) (.) (!)
- E) (:) (,) (.) (.) (.)

52. “Herkesin bildiği bir gerçek, yalan yanlış sözlerle değiştirilemez.” anlamında kullanılan atasözü aşağıdakilerden hangisidir?

- A) Güne göre kürk giyinmek gerek.
- B) Güneş girmeyen eve doktor girer.
- C) Güneş balçıkla sıvanmaz.**
- D) Gün doğmadan neler doğar.
- E) Gülme komşuna, gelir başına.

53. Aşağıdaki cümlelerin hangisinde bir yazım yanlışı vardır?

- A) Çocukluğum minik bir gece konduda geçti.**
- B) Tatlılar arasında en sevdiğim şekerpare.
- C) Bahçedeki hanımelinin kokusunu çok sever.
- D) Akşam yemeğinde karnıyarık varmış.
- E) Huzurevine gidip gönüllü olarak çalışıyor.

54. Söylenmesi olumsuz hisler uyandıran bazı kelimelerin yerine daha olumlu, hoş ağızdan kelimeler kullanılır.

**Bu açıklamanın örneği aşağıdaki cümlelerin hangisinde bulunmaktadır?**

- A) Bunca olaydan sonra onun yüzüne bakamazdım.
- B) Onu toprağa verişimizin üzerinden üç ay geçti.**
- C) İstedğini söyleyen insanlar istemediklerini iştir.
- D) Aynada kendini dev görenler çabuk yorulurlar.
- E) Belki de hiç görmediği insanlarla yemek yiyecekti.

55. Aşağıdaki cümlelerin hangisinde yazım yanlışı yapılmıştır?

- A) Benim de ödevlerim vardı ama yaptım.
- B) Yoldan şirin mi şirin bir ördek geçti.
- C) Ahmet de bizimle sinemaya geliyor.
- D) Senin ki bizimkinden daha güzel bence.**
- E) Dergideki her sayfayı sabırla okudum.

## A

56. (I) Kendisi bir renk cambazıdır. (II) Duvarlar ve tuvaler onun yaşam yeridir âdetâ. (III) Son yıllardaki yükselişi de sebepsiz değildir. (IV) O, kalbindeki canlı duygularla boyar beyaz zemini. (V) Resimlerinde doğaya da yeni boyutlar katmaya çalışır.

**Yukarıdaki numaralanmış cümlelerin hangisinde ressamın amacından söz edilmiştir?**

- A) I
- B) II
- C) III
- D) IV
- E) V

57. Aşağıdaki altı çizili kelimelerden hangisinin yazımı doğrudur?

- A) Evde yanlız kalan çocuk saatlerce ağlamış.
- B) Yazım yalnışı yapmamaya dikkat ederim.
- C) Güzel kadının kiprikleri zamanla döküldü.
- D) Güllerin pembe olanlarını özenle budadı.
- E) Alevler yükselince itfayiyeye haber verdik.

58. Aşağıdaki cümlelerin hangisinde soru işareti doğru yerde kullanılmıştır?

- A) Ne zaman geleceğine dair henüz bir fikrim yok?
- B) Uçağının iptal olduğunu gerçekten bilmiyor muymuş?
- C) Kızın kendi gibi güzel mi güzel bir de ablası varmış?
- D) Ne zaman içi üşüse bir yerlerde gözyaşı dökülürmüş?
- E) Neden böyle davrandığını söylerse hepimiz rahatlayacağız?

59. Aşağıdaki cümlelerin hangisinde amaç-sonuç ilişkisi vardır?

- A) Erken kalktığım için işlerimi zamanında yetiştirebiliyorum.
- B) Sen uyanmayasın diye parmak uçlarımızda yürüdük.
- C) Yağmur yağınca pikniği erteleme kararı aldık.
- D) Malzemelerimiz eksik olduğundan keki yapamadık.
- E) Sırf seni görebilmek için işten izin almıştım.

60. Aşağıdaki cümlelerin hangisinde yazım yanlışı vardır?

- A) Dolaptaki kıyafetler mis gibi kokuyordu.
- B) Sofradaki tutumuna çok dikkat etmelisin.
- C) Konuşurken seçtiğin kelimelere özen göster.
- D) Başlangıçda ikimiz de çok heyecanlıydık.
- E) Sohbetle karşıdakini dikkatle dinlemelisin.

61. “Sütten ağzı yanan yoğurdu üfleyerek yer.” atasözüyle anlatılmak istenen aşağıdakilerin hangisinde doğru olarak verilmiştir?

- A) Bir sonraki iş daha kazançlı olacaksa önceki işlerin getirisi düşünülmez.
- B) Bir davranışından zarar gören kişi, benzeri durumlarda ihtiyatlı olur.
- C) Zarar hangi yönden geldiyse o yönü güçlendirmeye çaba gösterilir.
- D) Hiç kimse kusurunu görmez, herkes suçu başkasında aramak ister.
- E) Bir olayın sonuçlarına katlanmak için gerekli cesaret içimizdedir.

## A

62. Aşağıdaki cümlelerin hangisinde işin yapılması bir koşula bağlanmıştır?

- A) Güzel bir bahçe istiyorsan bitkilerle ilgilenmelisin.  
B) Bizimle gelmek istemediğine göre yalnız kalmak istiyor.  
C) Akşam seni aramadıysa bil ki Ahmet'le maça gitmiştir.  
D) Televizyon bozulduğu için filmleri de izleyemiyoruz.  
E) Maçı kazanınca öyle heyecanlanmış ki kupayı tutamamış.

63. Aşağıdaki cümlelerin hangisinde virgül yanlış yerde kullanılmıştır?

- A) Saçlarını taradı, jöleledi.  
B) Çarşıdan sebze, meyve aldı.  
C) Bana baktı, ve kapıdan çıktı.  
D) Rafa kitapları, dergileri yerleştirdi.  
E) Yemeğini, tatlısını güzelce yedi.

64. (I) Shakespeare'in bütün eserlerini tek solukta okudum. (II) "Romeo ve Juliet" pek çok ülkede, farklı zamanlarda, defalarca sahnelenmiştir. (III) Günümüzde de beyaz perdede hak ettiği yeri görmüştür. (IV) "Othello" ise "Romeo ve Juliet" kadar ünlü olamasa da kurgu, karakterlerin sağlamlığı yönüyle önemli yere sahiptir. (V) Hâlâ okumayanlar varsa mutlaka tavsiye ederim.

Yukarıdaki numaralandırılmış cümlelerin hangisinde "karşılaştırma" anlamı vardır?

- A) I  
B) II  
C) III  
D) IV  
E) V

65. Aşağıdaki dizelerin hangisinde zıtlıklardan yararlanılmıştır?

- A) Utancımı alıp da yüreğimde  
Bakamadım gözlerindeki aşka  
B) Denizlerde ararım gözlerini  
Okyanusların en derin mavisini  
C) Yorulunca insan hızlanır vakit  
Yaşlanırsın zamansız ve çaresiz  
D) Hâlbuki ne çok sevmiştim seni  
Ne çok kurmuştum panjurlu evi  
E) Gün gelir ben de giderim  
Sen gelmeden yüreğimle

66. Aşağıdaki cümlelerde altı çizili sözcüklerin hangisinde yazım yanlışı yoktur?

- A) Dostca uzattı elindeki kitabı bana.  
B) Yavaşca arabaya bindi ve el salladı.  
C) Dikce bir tepeden kaykayla indi.  
D) Kardeşçe oynayın yavrum, dedi.  
E) Açıkca anlattı olan biten her şeyi.

67. Abartma (mübalağa) bir durumu ya da olayı olduğundan daha önemli, daha büyük ve çok göstermektir.

Bu tanıma göre aşağıdaki cümlelerin hangisinde abartma vardır?

- A) Ormanda sürüler geziyor.  
B) Tarife göre çok un eklemiştir.  
C) Denizde kum, bizde para.  
D) Şerbete fazla şeker koyma.  
E) Yol ayrımına gelince durdu.

68. "Terzi kendi söküğünü dikemez." atasözündeki anlam aşağıdakilerin hangisiyle benzerdir?

- A) Mum dibine ışık vermez.  
B) Dikensiz gül olmaz.  
C) Erken kalkan yol alır.  
D) Başa gelen çekilir.  
E) Körle yatan şaşı kalkar.

## A

69. Görevli (I) adamın çantasındaki (II) fatu-raların (III) birer kopyasını (IV) acilen (V) istediğini söyledi.

**Bu cümledeki anlam karışıklığını gi-dermek için numaralanmış yerlerin hangisine virgül getirilmelidir?**

- A) I  
B) II  
C) III  
D) IV  
E) V

70. (I) Günümüzden 20 yıl önce yazılan bu eseri yazar, yeniden yapılandırmış. (II) İlk baskıdaki pek çok cümle bu baskıda yer almıyor. (III) Her bölüm sonunda felsefi bir dize yine sorgulanıyor. (IV) Yazar, kendi hayatından örneklerle felsefe ve edebiyatı bir araya getiriyor. (V) Bu da eserin zevk alınarak bir çırpıda okunmasını sağlıyor.

**Yukarıdaki numaralanmış cümlelerin hangisinde öznel bir değerlendirme vardır?**

- A) I  
B) II  
C) III  
D) IV  
E) V

71. Aşağıdaki cümlelerin hangisinde gün ve ay adlarının yazılışı doğrudur?

- A) 23 nisanda okulda tören yapılacak.  
B) 31 Ocak 1987 Cumartesi günü doğmuş.  
C) 10 ekim 1982 Salı günü bize gelecektin.  
D) 25 Mayıs 2021 Cuma günü düğünümüz var.  
E) 1 Haziran 2021 Salı günü toplantı yapılacaktır.

72. Aşağıdaki cümlelerin hangisinde “şaşma” anlamı vardır?

- A) Aman vermiyor, rakibine saldırıp duruyordu.  
B) Aman diliyor, affedin diye ağlayıp haykırıyordu.  
C) Aman öyle söylemeyin, çok gücenir sonra.  
D) Aman efendim öyle büyümüş ki inanamadım.  
E) Aman yeter artık, bir daha burada kalmayacağım.

73. Aşağıdaki cümlelerin hangisinde “kazımak” sözcüğü gerçek anlamı dışında kullanılmıştır?

- A) Çocuk elinde kürekle toprağı kazıyordu.  
B) Sevdiğinin adını yüreğine kazımıştı bir kere.  
C) Adam nazikçe mührünü tahtaya kazıdı.  
D) Dolabı taşırken parkenin de cilasını kazımışız.  
E) Kabartmayı çıkarmak için kuvvetlice kazıdı.

74. Aşağıdaki cümlelerin hangisinde söylenenin duygularına yer verilmiştir?

- A) Güneş batarken vadinin üstünü koyu bir kızılılık kaplar.  
B) Köye gitmek için her sabah kilometrelerce yol yürüyordu.  
C) Okulu bitiremediği için bu yaz çırak olarak işe başladı.  
D) Bu şehirdeki en iyi esnaf yolun karşısındaki tatlıcıydı.  
E) Annesine yardım etmek için kalktı ve bulaşıkları yıkadı.

## A

75. Aşağıdaki cümlelerin hangisinde “de, da”nın yazımı doğrudur?

- A) Sen de gidersen kimim kalır?
- B) Benimde bazı sıkıntılarım oldu.
- C) Sorsaydında öyle gitseydik.
- D) Bahçe deki masayı sildi.
- E) Ahmet te bizimle gelecekti.

76. a bir tam sayı olmak üzere  $3a - 5$  ve  $2a + 8$  ardışık çift tam sayılardır.

Buna göre a sayısının alabileceği değerlerin çarpımı aşağıdakilerden hangisine eşittir?

- A) 130
- B) 143
- C) 150
- D) 165
- E) 180

77. a ve b pozitif tam sayılardır.

$9a^2 - 4b^2 = 17$  olduğuna göre  $a \cdot b$  çarpımının değeri kaçtır?

- A) 12
- B) 13
- C) 15
- D) 17
- E) 18

78. Tamamı 600 km olan yolu 6 saatte giden bir araç sürücüsü otoyolda saatte ortalama 120 km hızla gittiğini ancak otoyol dışında hızının saatte ortalama 90 km olduğunu söylemiştir.

Buna göre sürücü otoyolda kaç saat yol almıştır?

- A) 1
- B) 2
- C) 3
- D) 4
- E) 5

79.  $\frac{0,09}{0,03} - \frac{3,6}{8,1} - \frac{0,04}{0,02}$  işleminin sonucu kaçtır?

- A) 4/9
- B) 5/9
- C) 1
- D) 41/9
- E) 5

80. Gerçek sayılar kümesi üzerinde tanımlı \* işlemi, her a ve b gerçel sayısı için  $a * b = a^2 - 4ab + 4b^2$  şeklinde tanımlanıyor.

Buna göre  $3 * (4 * 2)$  işleminin sonucu aşağıdakilerden hangisidir?

- A) 3
- B) 6
- C) 9
- D) 11
- E) 19

**A**

81.  $\frac{2^5+2^5+2^5+2^5}{2^4+2^4+2^4+2^4}$  işleminin sonucu aşağıdakilerden hangisidir?

- A) 2  
B) 4  
C) 8  
D) 16  
E) 32

82.  $\frac{3}{4} - \frac{3}{4} + 3$  işleminin sonucu kaçtır?

- A)  $-\frac{3}{5}$   
B)  $-\frac{3}{4}$   
C)  $\frac{3}{5}$   
D)  $\frac{3}{4}$   
E)  $\frac{4}{5}$

83. Bir torbanın içerisinde 10 tane kırmızı bilye, 8 tane beyaz bilye ve 5 tane sarı bilye bulunmaktadır.

Torbadan rasgele bir bilye çekildiğinde bu bilyenin beyaz olmama olasılığı kaçtır?

- A) 5/18  
B) 8/23  
C) 8/15  
D) 13/23  
E) 15/23

84.  $4 \cdot 3^x - 5 \cdot 3^{x+1} + 2 \cdot 3^{x+2} = 189$  denklemini sağlayan  $x$  kaçtır?

- A) 0  
B) 1  
C) 2  
D) 3  
E) 4

85. Birbirine eşit üç sayının toplamı  $9^3$ 'tür. Buna göre bu üç sayının çarpımı kaçtır?

- A)  $3^6$   
B)  $3^9$   
C)  $3^{15}$   
D)  $3^{18}$   
E)  $3^{27}$

86.  $\frac{\sqrt{3}+\sqrt{12}+3\sqrt{75}}{\sqrt{27}}$  işleminin sonucu kaçtır?

- A) 3  
B) 6  
C)  $\sqrt{3}$   
D)  $3\sqrt{3}$   
E)  $6\sqrt{3}$

87.  $\frac{x-2}{3} + \frac{x-4}{4} - \frac{x+2}{2} = -2$  ise  $x$  kaçtır?

- A) -2  
B) -4  
C) 2  
D) 6  
E) 8



## A

88. Bir pastanede aynı anda 25 tane kurabiye veya 18 tane kurabiye alabilen 15 tepsi vardır.

**Tepsilerin hepsi toplam 326 kurabiye alabildiğine göre 18 kurabiye alabilen tepsi sayısı kaçtır?**

- A)4  
B)5  
C)6  
D)7  
E)8

89. Yaşları oranı  $\frac{2}{3}$  olan iki kardeşin 6 yıl sonra yaşları oranı  $\frac{3}{4}$  olacaktır.

**Buna göre kardeşlerin şimdiki yaşları toplamı kaçtır?**

- A)25  
B)30  
C)36  
D)40  
E)50

90. Sadece bir seçeneği doğru olan beş seçenekli çoktan seçmeli bir soruda, seçeneklerden birini rastgele işaretleyen öğrencinin doğru cevabı işaretlememe olasılığı yüzde kaçtır?

- A)20  
B)25  
C)50  
D)75  
E)80

91. Bir araç A ve B şehirleri arasındaki yolu sabit bir hızla 6 saatte gidiyor. Araç hızını saatte 30 kilometre azaltırsa aynı yolu 8 saatte gitmektedir.

**Buna göre araç aynı yolu saatte 60 kilometre sabit hızla kaç saatte gider?**

- A)9  
B)12  
C)13  
D)15  
E)18

92. a ve b gerçel sayılardır.  $\frac{1}{a} - \frac{1}{b} = \frac{7}{12}$  ve  $a \cdot b = 12$  olduğuna göre  $a^2 + b^2$  kaçtır?

- A)24  
B)25  
C)49  
D)70  
E)73

93. Bir satıcı elindeki pantolonların %45'ini %40 karla satıyor. Satışlar azalınca kalan pantolonları %20 zararla satıyor.

**Buna göre satıcının pantolonların satışından elde ettiği kâr yüzde kaçtır?**

- A)7  
B)8  
C)9  
D)10  
E)11

## A

94. 336 TL üç kardeşe sırasıyla 2 ve 3 ile doğru, 4 ile ters orantılı olarak paylaşılıyor.

Buna göre en az para alan kardeş kaç TL almıştır?

- A) 14  
B) 16  
C) 18  
D) 20  
E) 24

95. (53ab) dört basamaklı doğal sayısı 15 ile tam bölünebilmektedir.

Buna göre  $a+b$  toplamı en çok kaç olur?

- A) 11  
B) 12  
C) 13  
D) 14  
E) 15

96.  $-3 \leq 2x+6 < 9$  eşitsizliğini sağlayan  $x$  tamsayı değerleri aşağıdakilerden hangisidir?

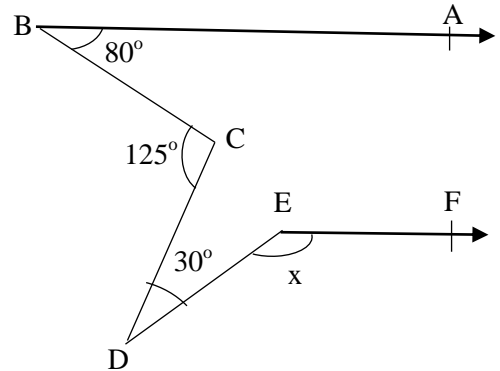
- A) -5, -4, -3, -2, -1, 0, 1  
B) -5, -4, -3, -2, -1, 0, 1, 2  
C) -4, -3, -2, -1, 0, 1  
D) -4, -3, -2, -1, 0, 1, 2  
E) -3, -2, -1, 0, 1, 2, 3

97. Bir defter ile iki kitabın fiyatı 62 TL, iki defter ile bir kitabın fiyatı ise 28 TL'dir.

Buna göre, bir defter ile bir kitap kaç TL'dir?

- A) 21  
B) 30  
C) 34  
D) 45  
E) 50

- 98.

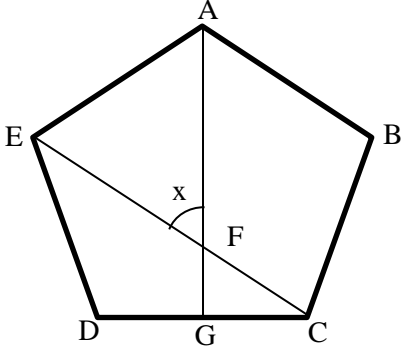


Şekle göre  $[BA \parallel [EF$ ,  $m(\widehat{ABC}) = 80^\circ$ ,  $m(\widehat{BCD}) = 125^\circ$  ve  $m(\widehat{CDE}) = 30^\circ$  olduğuna göre  $m(\widehat{DEF}) = x$  kaç derecedir?

- A) 145  
B) 150  
C) 155  
D) 160  
E) 165

A

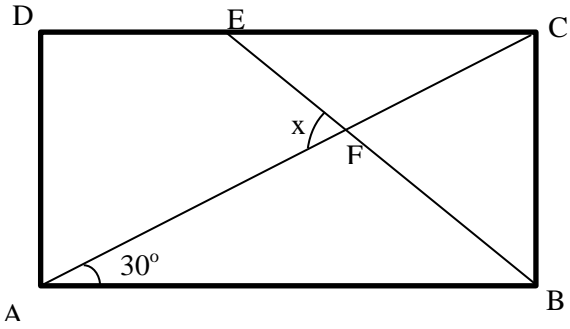
99.



Şekilde ABCDE düzgün beşgendir.  $|DG| = |GC|$  olduğuna göre  $m(\widehat{AFE}) = x$  kaçtır?

- A) 42
- B) 50
- C) 52
- D) 54
- E) 60

100.



Şekilde ABCD bir dikdörtgen,  $|AD| = |EC|$  ve  $m(\widehat{CAB}) = 30^\circ$  olduğuna göre  $m(\widehat{EFA}) = x$  kaç derecedir?

- A) 65
- B) 70
- C) 75
- D) 80
- E) 85

TEST BİTTİ.  
CEVAPLARINIZI KONTROL EDİNİZ.

## SINAVDA UYGULANACAK KURALLAR

1. Sınav süresince görevlilerle konuşmak ve görevlilere soru sormak yasaktır. Aynı şekilde görevlilerin de adaylarla yakından ve alçak sesle konuşmaları yasaktır.
2. Yanınızda ve sıranızda sınav konuları ile ilgili kitap, not vb. bulundurmamak yasaktır. Sınav sırasında birbirleriyle konuşan, kopya çeken, kopya veren, kopya çekilmesine yardım edenlerin kimlik bilgileri, sınav görevlilerince BİREYSEL SINAV İPTAL TUTANAĞI'na yazılacak ve bu adayların sınavları geçersiz sayılacaktır. Görevliler kopya çeken veya kopya vermeye kalkışanları uyarmak zorunda değildir; sorumluluk size aittir.
3. Adaylar sınav sırasında görevlilerin her türlü uyarılarına uymak zorundadır. Gerektiğinde görevliler oturduğunuz yerleri değiştirebilir. Sınavınızın geçerli sayılması, her şeyden önce sınav kurallarına uymanıza bağlıdır.
4. Sınavın başlamasını izleyen ilk 15 dakika geçtikten sonra gelen hiçbir aday sınava alınmayacaktır. Adaylar cevaplama işlemini erken tamamlamış olsalar bile sınavın ilk 30 dakikası ve son 10 dakikası içinde adayların salondan çıkmasına izin verilmeyecektir.
5. Cevaplamaya geçmeden önce verilecek soru kitapçığının üzerinde size ayrılan yerlere adınız ve soyadınız ile aday, salon ve sıra numaralarınızı mutlaka yazınız. Sınav sonunda soru kitapçıkları toplanacak ve sınav merkezinde tek tek incelenecektir. Soru kitapçığının bir sayfası dahi eksik çıkarsa sınavınız geçersiz sayılacak ve hakkınızda yasal işlem başlatılacaktır.
6. Kitapçık türünü optik forma işaretlemek adayın sorumluluğundadır. Kitapçık türünü optik forma işaretlemeyen adayların sınavları geçersiz sayılacaktır.
7. Cevap kâğıdına yazılacak her türlü yazı, rakam ve yapılacak işaretlemeler için koyu, siyah kurşun kalem kullanılacaktır. Tükenmez kalem veya dolmakalem kesinlikle kullanılmayacaktır. CEVAPLARIN TÜMÜ CEVAP KÂĞIDINA İŞARETLENECEKTİR. Soru kitapçıkları üzerine yapılan işaretlemeler kesinlikle değerlendirilmez.
8. Soru kitapçığının sayfalarındaki boş yerleri müsvedde olarak kullanabilirsiniz. Başka bir kâğıdı müsvedde olarak kullanmak yasaktır.
9. Adayların soruları ve/veya bu sorulara verdikleri cevapları herhangi bir yere yazmaları ve bunu sınav salonundan dışarı çıkarmaları yasaktır.
10. Sınav evrakları dağıtıldıktan sonra herhangi bir nedenle salondan çıkan adayın cevap kâğıdı alınır ve adayın sınava tekrar devam etmesine izin verilmez.
11. Adayların her türlü delici ve kesici alet, ateşli silah, çanta, cüzdan, sözlük, hesap makinesi, cep telefonu, saat, anahtarlık, telsiz, radyo gibi kaynaklar, kablosuz iletişim sağlayan bluetooth ve benzeri cihazlar ile kulaklık, kolye, küpe, bilezik, yüzük (alyans hariç), broş ve diğer takılar, her türlü plastik, cam eşya ve metal içerikli eşyalar, her türlü elektronik/mekanik cihaz ve her türlü müsvedde kâğıt, defter, ders notu, kitap, sözlük, dergi, gazete ve benzeri yayınlar, cetvel, pergel, açılabilir vb. araçları yanlarında bulundurmaları yasaktır. Aksi davranışta bulunanlar hakkında tutanak tutulacak ve o kişilerin sınavları geçersiz sayılacaktır.
12. Sınavınız bittiğinde, cevap kâğıdınızı ve soru kitapçığınızı salon görevlilerine şahsen teslim ediniz. Teslim etmediğiniz evrak nedeniyle sınavınız geçersiz sayılacak ve hakkınızda yasal işlem yapılacaktır. Evrakların teslim edilmesinden aday sorumludur.

***SINAVINIZDA BAŞARILAR DİLERİZ.***